

座席番号

2019 年度学力水準検査

第3学年 第8回 北辰テスト

社 会 (10時40分～11時30分)
(50分間)

注 意

1 解答用紙について

- (1) 解答用紙は1枚で、問題用紙にはさんであります。(解答欄は、解答用紙の両面にあります。)
- (2) 解答用紙のいちばん下の欄に、受験番号(受験票にある番号)と、会場番号・座席番号(座席カードにある番号)と、氏名・フリガナを書き、男・女のどちらかを○で囲みなさい。
- (3) 座席カードについているQRシールを1枚はがし、解答用紙のQRシール欄にはりなさい。
- (4) 答えはすべて解答用紙のきめられたところ書きなさい。

2 問題用紙について

- (1) 表紙の所定の欄に座席番号を書きなさい。
- (2) 問題は全部で大問が6問あり、表紙を除いて15ページです。

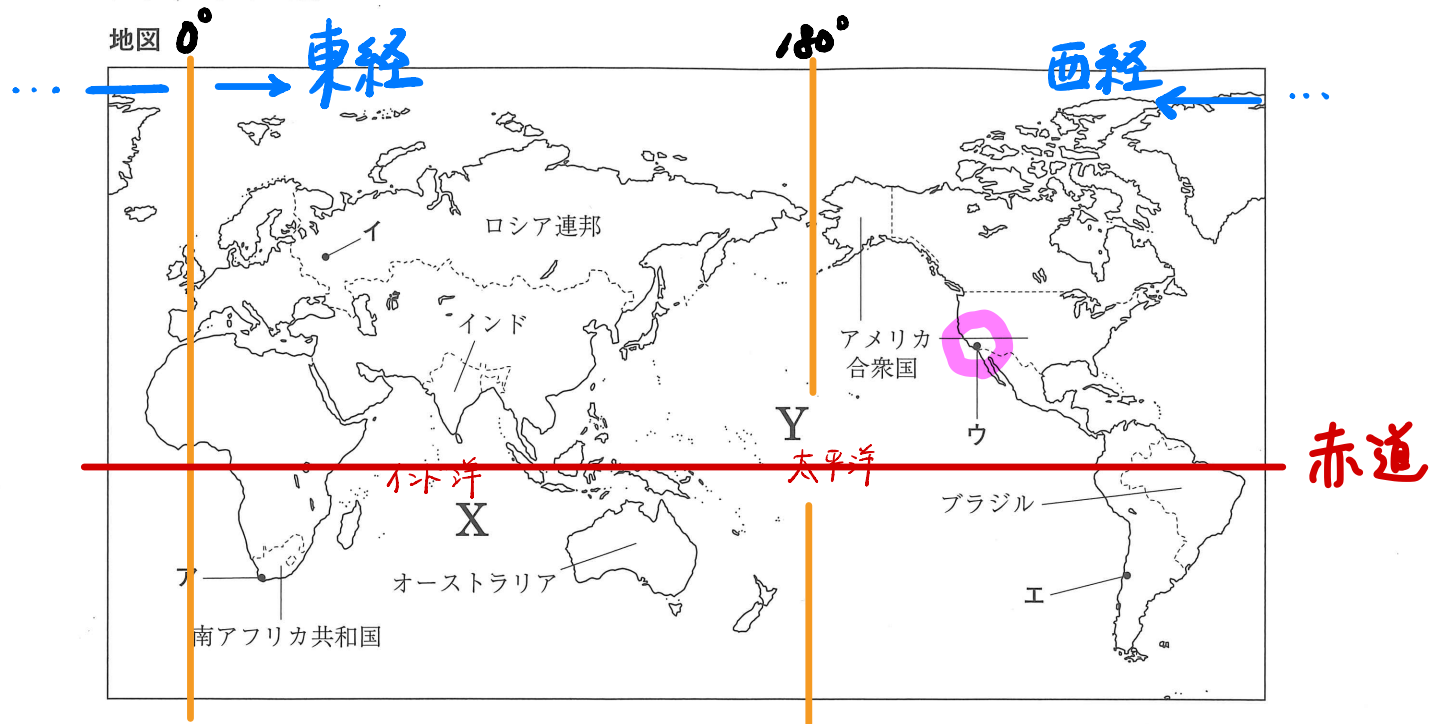
3 解答を書くとき

文字はくずさず、濃くはつきりと書きなさい。わかりにくい場合は、×になります。また、解答欄の枠外に書いた場合は、採点できません。

- テスト開始の合図があるまで、問題を解いてはいけません。問題用紙の表紙を上にして、静かに待ちなさい。
- 印刷のはっきりしないところは、手をあげて監督の先生に聞きなさい。
- テスト中、気分が悪くなった場合は、監督の先生に申し出なさい。

© HOKUSHINTOSHO 2020
複写複製すること・これに準ずることを禁じます。

1 Hさんは、世界の国々や都市について調べ、次の地図をつくりました。地図をみて、問1～問6に答えなさい。(17点)



問1 世界の三大洋のうち、地図中に示したオーストラリアに面しているXとYの2つの海洋の名称を、それぞれ書きなさい。(2点)

X: インド洋 Y: 太平洋

問2 次の[]の中に示した緯度と経度であらわされる地点として最も適切なものを、地図中のア～エの中から一つ選び、その記号を書きなさい。(2点)

北緯 34 度 西経 118 度

赤道より北 イギリスの西側

ウ

問3 地図中に示した(インドについて述べた文)として最も適切なものを、次のア～エの中から一つ選び、その記号を書きなさい。(2点)

インドはヒन्दゥー教

- ✕ ア イスラム教の聖地であるメッカとメディナがあり、多くの国民がイスラム教を信仰している。
- ✕ イ 気候や土壌などに合わせた適地適作により、綿花や大豆などが大規模に栽培されている。
- ✕ ウ 植民地時代からプランテーション農業が行われ、そこで栽培されたさとうきびなどを原料としたバイオエタノールの生産が拡大している。
- エ 英語を話せる人が多いほか、数学教育が盛んなことなどもあり、情報技術(IT)産業が大きな発展をとげている。

適地適作とは
アメリカの農業

問4 Hさんは、地図中に示したロシア連邦の工業について調べ、次の文章にまとめました。文章中の()に共通してあてはまる最も適切な語を、カタカナで書きなさい。(3点)

ロシア連邦は、石油や天然ガスなどの鉱産資源が豊富に採れるため、周辺諸国に盛んに輸出をしている。とくに、ロシア連邦と陸続きのEU諸国へは、右の資料で示した[]を通じて、多くの石油が直接輸出されている。船などで石油を輸送するときと比べて、[]を利用したときの方が、輸送費が安く、大量に送れるというメリットがある。

資料



パイプライン

問5 次のグラフは、世界の米の生産量と輸出量をそれぞれ示したものです。また、表1は、世界の米の生産量の上位10か国を示したもので、表2は、世界の人口の上位10か国を示したものです。グラフをみると、(米の生産量に対して輸出量がとても少ないことがわかりますが、その理由を、「消費」という語を用いて、米を主食としている地域に触れながら、表1と表2を参考にして書きなさい。(5点)

主にアジア

グラフ 世界の米の生産量と輸出量

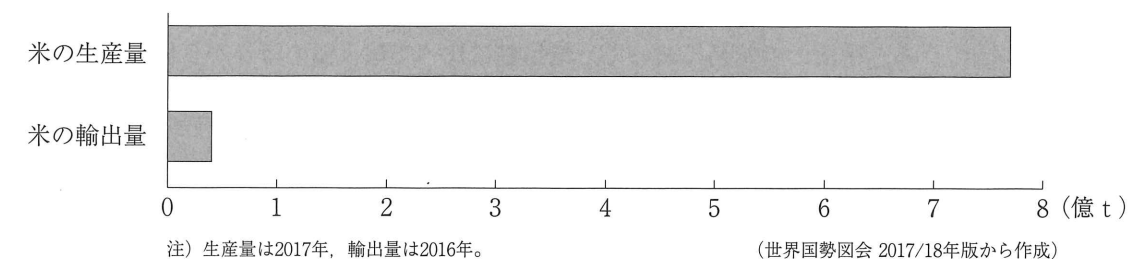


表1 世界の米の生産量の上位10か国

	生産量 (千t)
中国	212676
インド	168500
インドネシア	81382
バングラデシュ	48980
ベトナム	42764
タイ	33383
ミャンマー	25625
フィリピン	19276
ブラジル	12470
パキスタン	11175

2017年(世界国勢図会 2017/18年版から作成)

表2 世界の人口の上位10か国

	人口 (千人)
中国	1409517
インド	1339180
アメリカ合衆国	324459
インドネシア	263991
ブラジル	209288
パキスタン	197016
ナイジェリア	190886
バングラデシュ	164670
ロシア連邦	143990
メキシコ	129163

2017年(世界国勢図会 2017/18年版から作成)

例) 米を主食としているアジアの国々は、人口の多い国が多く、国内でほとんどを消費してしまうため、輸出にまわせないから。

問6 次の表3は、地図中に示した南アフリカ共和国、インド、オーストラリア、アメリカ合衆国、ブラジルの人口、国土面積、輸出額、輸入額、対中国貿易の輸出額、対中国貿易の輸入額を示したものです。**表3から読みとれる内容を述べた文として正しいものを、下のア～オの中からすべて選び、その記号を書きなさい。**（3点）

表3

	人口 (千人) 2017年	国土面積 (千km ²) 2017年	輸出額 (百万ドル) 2017年	輸入額 (百万ドル) 2017年	対中国貿易の 輸出額 (百万ドル) 2017年	対中国貿易の 輸入額 (百万ドル) 2017年
南アフリカ共和国	4 56717	1221	88790	82995	8569	15213
インド	1 1330180	3287	299692	446890	12520	71956
オーストラリア	5 24451	7692	231073	221205	76687	49159
アメリカ合衆国	2 324459	9834	1546725	2409480	130370	505597
ブラジル	3 209288	8516	217826	157543	47495	27323

（世界国勢図会 2019 / 20 年版などから作成）

- チェックを
サボらない!!
- 32÷9 20÷8
- × ア アメリカ合衆国とブラジルの人口密度を比べると、ブラジルのほうが高い。⇒ $\frac{\text{人口}}{\text{面積}}$
- × イ 5か国のうちでは、人口が多い国ほど、貿易額（輸出額＋輸入額）が多い。
- ウ 輸出額よりも輸入額のほうが多い国のうち、その差額が最も大きい国は、アメリカ合衆国である。
- エ 5か国のうち、輸出額に占める対中国貿易の輸出額の割合が最も大きい国は、オーストラリアである。
約30%
- オ 5か国のうち、中国との貿易において、輸出額に比べて輸入額のほうが5倍以上多い国は、インドだけである。

緻密に!!

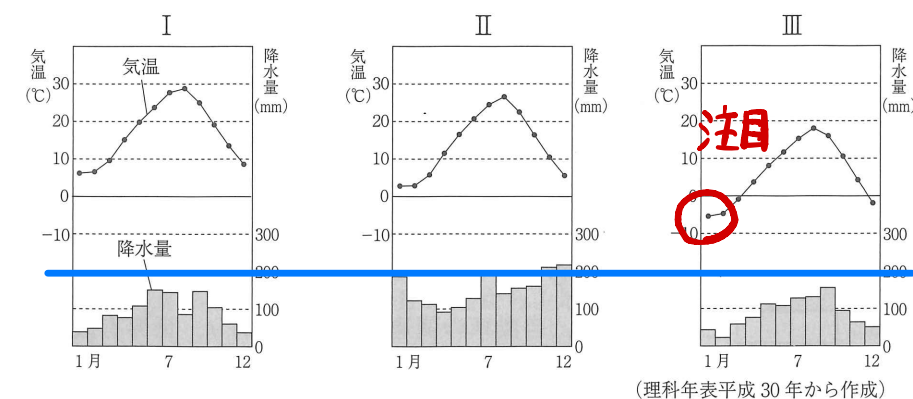
2 Nさんは、地理的分野の授業で日本の諸地域を学習したあと、次の地図1をつくりました。地図1をみて、問1～問5に答えなさい。（15点）

地図1



問1 Nさんは、地図1中に示した釧路市、新潟市、高松市の気温と降水量を調べ、次のグラフをつくりました。**I～Ⅲのグラフと都市の組み合わせとして正しいものを、下のア～カの中から一つ選び、その記号を書きなさい。**（2点）

グラフ



（理科年表平成30年から作成）

- ア I - 釧路市 II - 新潟市 III - 高松市
- ウ I - 新潟市 II - 釧路市 III - 高松市
- オ I - 高松市 II - 釧路市 III - 新潟市
- イ I - 釧路市 II - 高松市 III - 新潟市
- エ I - 新潟市 II - 高松市 III - 釧路市
- カ I - 高松市 II - 新潟市 III - 釧路市

発電量がいちばん多い。

問2 次の表1は、日本の地方ごとの種類別発電量を示したものです。また、表1中のア～エは、火力発電、水力発電、地熱発電、風力発電のいずれかの項目を示しています。このうち、(火力発電にあたるものを)、表1中のア～エの中から一つ選び、その記号を書きなさい。(2点)

表1

	東北地方	関東地方	中国地方	九州地方
ア	11806	6954	4377	6349
イ	843	9	0	1122
ウ	1914	272	465	527
エ	79429	234409	58657	88956

注) 単位は、百万kWh。

2017年(データでみる県勢2019年版から作成)

地熱発電
"多い"
ところ

突出した
数字に
目をつける。

問3 次の表2中のアとイの2つの表は、地図1中に示した千葉県にある成田国際空港と千葉港のいずれかの輸出額の上位5位の品目を示したものです。このうち、(成田国際空港の輸出品を示した表にあたるものを)一つ選び、その記号を書きなさい。また、(成田国際空港で扱う輸出品には、どのような特徴があるか)「重量」という語を用いて書きなさい。(5点)

表2 港別の輸出額の上位5位の品目

ア	品目
1位	石油製品
2位	鉄鋼
3位	自動車
4位	有機化合物
5位	プラスチック

イ	品目
1位	科学光学機器
2位	金(非貨幣用)
3位	集積回路
4位	電気回路用品
5位	半導体製造装置

2018年(日本国勢図会2019/20年版から作成)

重量が軽くて

値段が高いの。

覚えて
おきましょう!!

問4 Nさんは、地図1中に示した愛知県の工業について調べ、次の文章にまとめました。文章中の()に共通してあてはまる語を書きなさい。(3点)

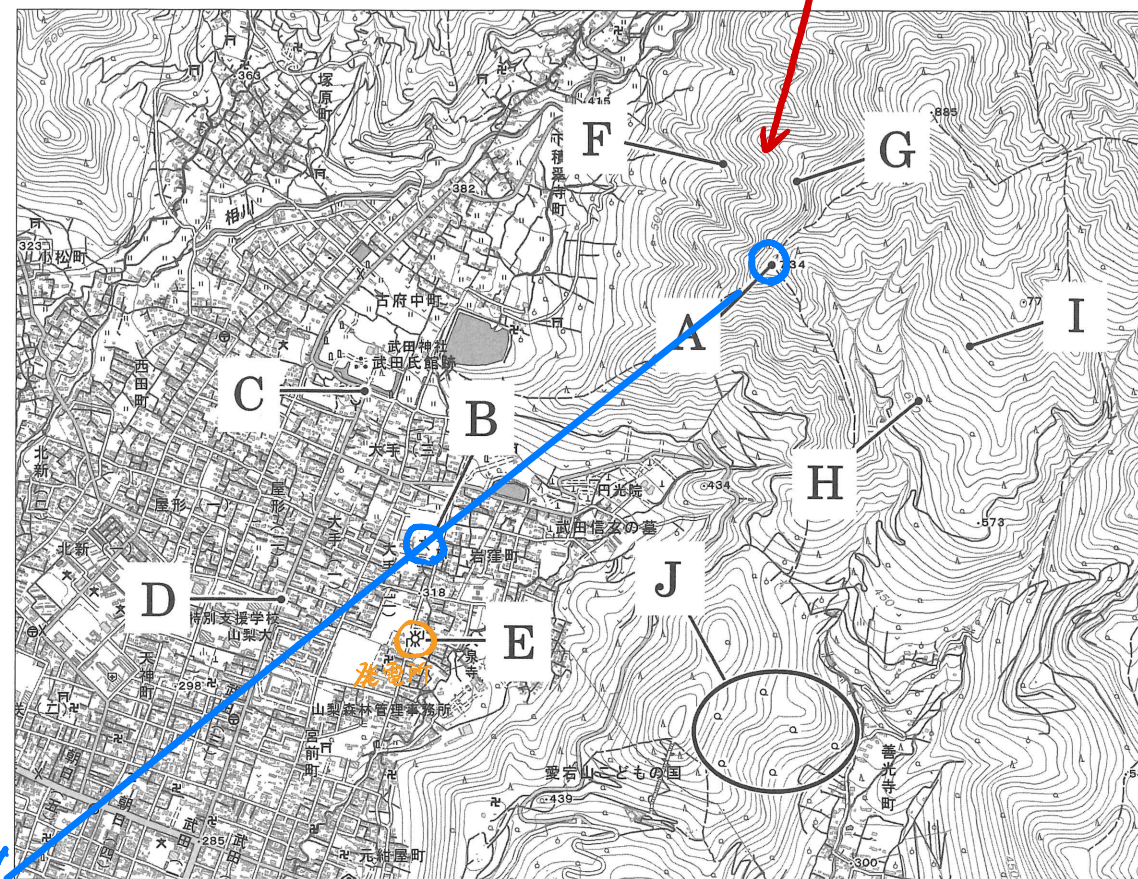
愛知県の県庁所在地である名古屋市を中心として、日本最大の工業地帯の()工業地帯が形成されている。()工業地帯には、自動車の関連工場が多くあり、世界有数の自動車の生産地域であるとともに、工業出荷額が日本の工業地帯(地域)の中で最も多い。

関連するキーワード
大切だよ!!

中京

問5 次の地図2は、地図1中に示した山梨県甲府市の一部を示した2万5千分の1の地形図です。地図2から読みとれる内容を述べた文として下線部が正しいものを、下のア～オの中からすべて選び、その記号を書きなさい。(3点)

地図2



北 せまい = 急

西

東

南 地理院2万5千分の1電子地形図「甲府北部」令和元年調製一部改変

- × ア A地点からみると、B地点の小・中学校は、およそ南東の方向にある。
- イ C地点からD地点までの直線距離は、地図上で約3cmあり、実際の直線距離は約750mである。
× 250m 瞬殺です。
- × ウ E地点には、工場がある。
- エ F地点からG地点までと、H地点からI地点まででは、等高線から考えると、F地点からG地点までのほうが、急な傾斜である。
- × オ Jの範囲には、果樹園がみられる。

○ 広葉樹林

△ 針葉樹林



3 次のⅠ～Ⅴは、Sさんが、5つの異なる時代についてまとめたものです。これをみて、問1～問5に答えなさい。(14点)


Ⅰ	摂政となった聖徳太子は、大王(天皇)を中心とする新しい政治を始めようとした。冠位十二階の制度や十七条の憲法などを定めたほか、中国に遣隋使を派遣した。
Ⅱ	701年、中国の法律にならって X がつくられた。そして、 X に基づいて新しい国家の仕組みが整えられていった。 大宝律令
Ⅲ	京都でおこった保元の乱や平治の乱で活躍した平清盛が、武士として初めて太政大臣となり、 <u>平氏の一族も高い位についた。</u>
Ⅳ	元寇の後、鎌倉幕府は困窮する御家人の生活を救おうと徳政令を出したが、その効果はあがらず、混乱はさらに大きくなった。
Ⅴ	天明のきさんの後、田沼意次に代わって、白河藩主の松平定信が新たに老中となった。松平定信は、徳川吉宗の政治を理想として、寛政の改革を行った。

問1 Sさんは、文化に興味をもち調べたところ、次のa、bの文と、下の資料1、資料2をみつけました。Ⅰのまとめの **飛鳥時代** の文化について述べた文と、その時代の代表的な文化財の組み合わせとして正しいものを、下の表中のA～Eの中から一つ選び、その記号を書きなさい。(2点)

a 蘇我氏などによって仏教が広められたほか、中国や朝鮮半島、西アジアなどの文化の影響を受けた作品が多くつくられた。

b 社会が乱れ、人々の不安が高まったことで、死後に極楽浄土へ生まれ変わることを願う浄土信仰が広まった。

資料1



平等院鳳凰堂阿弥陀如来像

資料2



玉虫厨子

表

	文化	代表的な文化財
A	a	資料1
イ	a	資料2
ウ	b	資料1
E	b	資料2

問2 Ⅱのまとめの **X** に共通してあてはまる語を、漢字4字で書きなさい。(3点)

問3 Ⅲのまとめの下線部に関連して、次の資料3は、平氏より約60年ほど前に政治の中心人物であった藤原道長について書かれたものです。また、資料4は、平清盛やその一族の栄華について書かれたものです。**藤原道長と平清盛が、当時の政治の中心人物となった要因の一つとして、どちらもあ**
る共通の理由がみられます。その理由を、資料3と資料4を参考にして書きなさい。(5点)

資料3

一〇一八年十月十六日、今日は、藤原威子を皇后^{※1}に立てる日である。威子は藤原道長の三番目の娘である。一家から三人の后が立つとは、前例のないことである。
※1) 皇后…ここでは「後一条天皇の正妻」の意。 (『小右記』より一部要約)

資料4

(中略) 平清盛には、御息女^{※2}が八人おられた。そのうち一人は皇后^{※3}になられた。二十二歳で皇子が御生まれになり、皇太子に立ち、即位されたので、院号をおうけになって建礼門院と申された。
※2) 御息女…ここでは「平清盛の娘」の意。 ※3) 皇后…ここでは「高倉天皇の正妻」の意。 (『平家物語』より一部要約)

問4 Ⅳのまとめの **鎌倉時代** の生活について述べた文として正しいものを、次のA～Eの中から一つ選び、その記号を書きなさい。(2点) ***各時代のキーワードをカクニしよう!!**

江戸

X

A 農村では、五人組の制度がつけられ、農民は犯罪の防止や年貢の納入などに**連帯責任**を負わされた。

室町

X

I 農村では、惣とよばれる自治組織がつけられ、農民たちの**団結**が強くなったことで、借金の帳消しなどを求める土一揆がおこった。

安土
桃山

X

E 武力による**一揆を防ぐために刀狩**が実施され、農民や寺社から、刀や弓、鉄砲などが取り上げられた。

問5 次のX～Zについて、Ⅴのまとめの時期(**18世紀後半**)の世界のできごとについて述べた文として、その**正誤の組み合わせが正しいもの**を、下のA～Eの中から一つ選び、その記号を書きなさい。(2点)

- このあたりが重要!!**
1700年代の後半のこと!! = 松平定信のこと
⑤E
- X ローマ教皇のよびかけによって十字軍が派遣され、キリスト教の聖地であるエルサレムを、イスラム教徒から奪還しようとした。
Y イタリアの都市で、ルネサンスとよばれる文芸復興運動がおこり、レオナルド・ダ・ビンチなどによって、多くの芸術作品がつけられた。
Z 王政が行われていたフランスで、身分制度の廃止や自由と平等、人民主権などを唱える**フランス革命**がおこった。

A X 正 Y 誤 Z 誤
ウ X 誤 Y 正 Z 正
イ X 正 Y 正 Z 誤
エ X 誤 Y 誤 Z 正

4 次の年表をみて、問1～問5に答えなさい。(15点)

西暦(年)	できごと
1825	・イギリスで世界初の蒸気機関の鉄道が開通する……………A
1872	・日本で初めての鉄道が開通する……………B
1906	・南満州鉄道株式会社が設立される……………C
1927	・日本で初めて地下鉄が開通する……………D
1945	・羽田空港が連合国軍に接收される……………E
1978	・成田空港が開港する……………

問1 年表中Aの時期の日本の社会や経済の様子について述べた文として正しいものを、次のア～エの中から一つ選び、その記号を書きなさい。(2点)

- ア 製糸業と紡績業が発展し、軽工業を中心に日本でも産業革命が進んで、資本主義が確立した。
- イ 労働組合が結成され、労働争議の件数が増加したため、政府はこれを取り締まる一方で、労働条件の改善をめざして工場法を制定した。
- ウ 世界恐慌の影響を受けて、都市では多くの企業が倒産して失業者が増え、農村では米やまゆなどの農産物の価格が暴落した。
- エ 欧米諸国と貿易を開始し、生活用品の不足や値上がりがおこったことで、生活に困窮する人々が増え、各地で世直し一揆や打ちこわしがおこった。

問2 次のア～エは、(年表中Bの時期のできごと)について述べた文です。年代の古い順に並べかえ、その順に記号で書きなさい。(3点)

- ア 外国勢力を排除しようとする義和団が、北京の各国公使館を包囲したことをきっかけに、義和団事件がおこった。
- イ 江華島沖に派遣された日本の軍艦が、朝鮮から砲撃を受けるという江華島事件がおこった。この事件をきっかけに、日本は朝鮮に圧力をかけ日朝修好条規を結んだ。
- ウ 南下政策を取るロシアが満州を占領し続けたことに日本は脅威を抱き、ロシアと対立するようになって、日露戦争が始まった。
- エ 下関条約が締結された後、ロシアやドイツ、フランスによって、日本が獲得した遼東半島を清に返還するよう勧告する三国干渉が行われた。

こいつがカギかな？
イ エ ア ウ

正対せよ!!

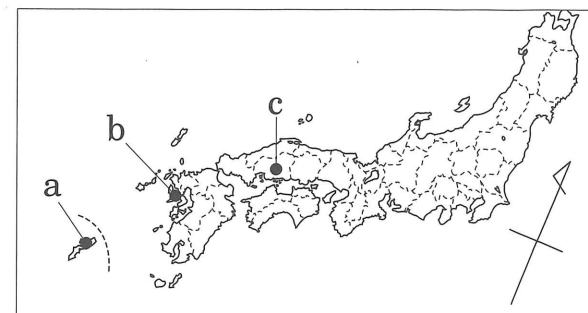
問3 右のグラフは、年表中Cの時期におこった第一次世界大戦前後における、日本の輸出額と輸入額の推移を示したものです。(第一次世界大戦期における、日本の輸出額と輸入額の関係は、それ以前と比べてどのように変化したか)書きなさい。また、第一次世界大戦が終了した翌年に開かれたパリ講和会議では、敗戦国であるドイツの領土の縮小や賠償金などを定めた講和条約が締結されました。(その条約の名称)書きなさい。(5点)

ベルサイユ条約

問4 次の文章は、年表中Dの時期のできごとについてまとめたものです。文章中のXに共通してあてはまる語と、地図中のXの位置の組み合わせとして正しいものを、下のア～カの中から一つ選び、その記号を書きなさい。(2点)

1941年に始まったアメリカ合衆国との戦争は、その国力の差から次第に日本が劣勢となった。アメリカ軍は、日本各地に空襲を行うとともに、1945年3月には、Xに上陸した。3か月に及んでXでの戦いが行われたため、当時のXの人口の約4分の1の人々が犠牲になったとされる。

地図



- ア X - 長崎県 位置 - a イ X - 長崎県 位置 - b ウ X - 長崎県 位置 - c
- エ X - 沖縄県 位置 - a オ X - 沖縄県 位置 - b カ X - 沖縄県 位置 - c

問5 次の文章は、年表中Eの時期のできごとについてまとめたものです。文章中のPに共通してあてはまる語を、カタカナで書きなさい。(3点)

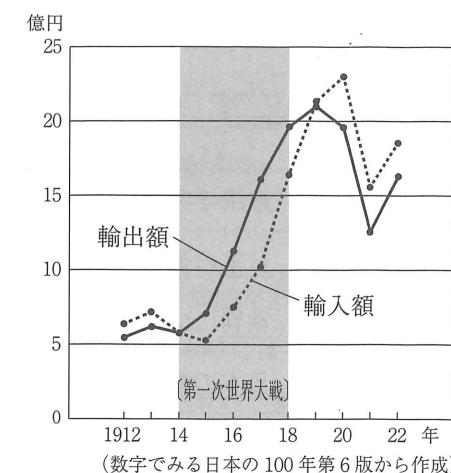
1950年代半ば以降、日本の経済は年平均で10%程度の成長を続け、人々の所得は増えて生活が豊かになっていった。1964年には、東京でPが開かれ、その開会に合わせて東海道新幹線も開通した。日本の復興を象徴するできごとであったP以後も、日本の経済の高度成長は続いた。

オリンピック

第一次世界大戦前と比べて

輸出額が
輸入額を上回るようになった。

グラフ



5 Iさんのクラスでは、公民的分野の授業で、班ごとに興味のあるテーマについて調べ、次の表1にまとめました。表1をみて、問1～問7に答えなさい。(23点)

表1

	テーマ
1班	憲法で保障された① <u>基本的人権</u> には、どのようなものがあるか
2班	② <u>日本の選挙</u> には、どのような課題があるか
3班	③ <u>裁判</u> には、どのような種類があるのか
4班	④ <u>日本の税制度</u> には、どのような特徴があるか
5班	⑤ <u>日本銀行の役割</u> には、どのようなものがあるか
6班	⑥ <u>株式会社</u> は、どのような仕組みとなっているのか
7班	私たちが住む地球には、現在どのような⑦ <u>環境問題</u> があるのか


問1 表1中の下線部①に関連して、次の文章は、基本的人権で保障されている社会権についてまとめたものです。文章中の A と B にあてはまる語を、それぞれ漢字で書きなさい。(3点)

社会権とは、人々が人間らしく豊かな生活を送ることを保障する権利で、その中でも最も基本となるのが A 権である。日本国憲法では、第25条で A 権が定められていて、「すべて国民は、健康で文化的な B の生活を営む権利を有する」と記されている。

A: 生存権 B: 最低限度.

問2 表1中の下線部②に関連して、次の資料は、衆議院議員選挙の投票用紙を示したもので、グラフ1は、2019年に実施された、参議院議員選挙における年齢層別の投票率を示したものです。資料からわかるように、投票する際には、投票者の氏名を記入する必要はなく、どの候補者や政党に投票したかということを、誰にも知られないようになっています。これは、(選挙の4原則の一つに基づいているものですが、その原則の名称を書きなさい。また(有権者の年齢層と投票率の関係について、)グラフ1からどのような傾向が読みとれるか書きなさい。(5点)

資料



グラフ1



<名称>
秘密選挙.

問3 表1中の下線部③に関連して、3班は、裁判の種類について調べ、次の文章にまとめました。文章中の P と Q にあてはまる語を、それぞれ書きなさい。(3点)

裁判には、殺人などの犯罪行為について有罪か無罪かを定める P 裁判のほか、個人や企業など、私人間の利害関係の対立からおこされる Q 裁判がある。

P: 刑事 Q: 民事

2021除外

問4 表1中の下線部④に関連して、租税の一つには消費税という税の種類があり、日本では2019年10月から消費税の税率が10%となりました。この(消費税率を決める際には、所得の少ない人への配慮が必要だといわれていますが、その理由を、「所得」という語を用いて書きなさい。(5点)

所得の少ない人ほど、負担が大きくなるから。

2021除外

問5 表1中の下線部⑤に関連して、次の表2は、日本銀行の役割と具体的な業務内容についてまとめたものです。表2中の I ～ III にあてはまる語の組み合わせとして正しいものを、下のア～カの中から一つ選び、その記号を書きなさい。(2点)

表2

役割	業務内容
発券銀行	日本銀行券とよばれる紙幣を発行する
<u>I</u> の銀行	<u>I</u> の資金を預金として預かり、その出し入れをする
銀行の銀行	一般の銀行から預金を預かったり、銀行に融資をしたりする
<u>II</u> を行う	景気を安定させるために、景気の悪いときには通貨量を増やし、景気の良いときは通貨量を減らす <u>III</u> を行う

- ア I - 国民 II - 財政政策 III - 公共投資
イ I - 国民 II - 財政政策 III - 所得倍增計画
ウ I - 政府 II - 金融政策 III - 公開市場操作
エ I - 政府 II - 金融政策 III - 公共投資
オ I - 企業 II - 財政政策 III - 公開市場操作
カ I - 企業 II - 金融政策 III - 所得倍增計画

読みとるだけ!!

問6 表1中の下線部⑥に関連して、(株式会社について述べた文として正しいものを、次のア～オの中から必ず一つを選び、その記号を書きなさい。(3点)

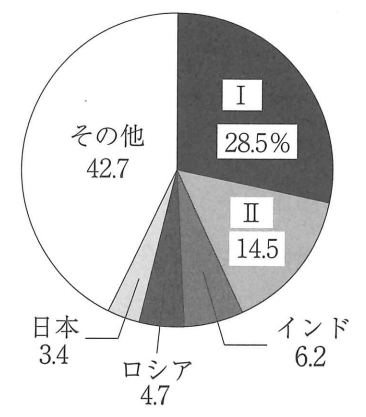
- ア 株式会社の経営者は、株主総会において、必ず株主の中から選ばれる。
- イ 株式会社は、利潤を追求する企業であるため、社会的責任(CSR)を負うことはない。
- ウ 株主は、株式会社が倒産しても、会社の借金を返済する義務はない。
- エ 株主になることができるのは個人のみで、企業などの法人になることはできない。
- オ 株主は、株式会社の利潤の一部を、配当として受け取ることができる。

もうけたあんなら
何れでもいいか?

問7 次の文章は、表1中の下線部⑦について学ぶ授業における、先生とIさんの会話の内容です。また、下のグラフ2は、各国別の二酸化炭素排出量の割合を示したもので、グラフ3は、各国別の一人あたりの二酸化炭素排出量を示したものです。(会話文中のI～IIIにあてはまる語の組み合わせとして正しいものを、下のア～エの中から一つ選び、その記号を書きなさい。(2点)

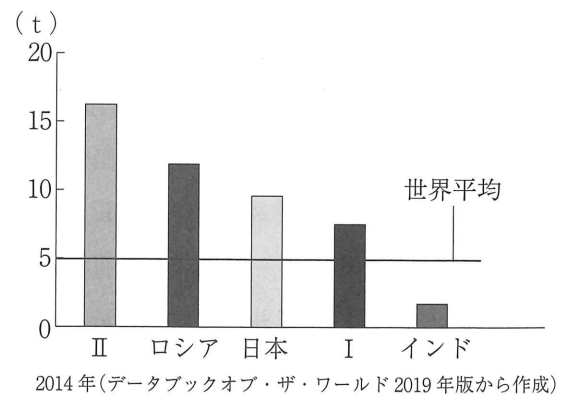
先生 : グラフ2とグラフ3から、どのようなことが読みとれますか。
Iさん : 国別だと、Iが、世界最大の二酸化炭素の排出国ですが、国民一人あたりの二酸化炭素の排出量だと、IIや日本といった先進国が、比較的多いです。
先生 : そうですね。そのため、1997年に採択されたIIIでは、先進国に温室効果ガスの削減目標が義務づけられました。しかし、IIはすぐに離脱し、日本も2013年以降の不参加を決めました。

グラフ2



2014年(データブックオブ・ザ・ワールド 2019年版から作成)

グラフ3



2014年(データブックオブ・ザ・ワールド 2019年版から作成)

- ア I - 中国 II - アメリカ合衆国 III - パリ協定
- イ I - アメリカ合衆国 II - 中国 III - パリ協定
- ウ I - 中国 II - アメリカ合衆国 III - 京都議定書
- エ I - アメリカ合衆国 II - 中国 III - 京都議定書

時代の
流れに並べても
解けず。

6 Kさんは、大阪府にある百舌鳥・古市古墳群が、2019年に世界文化遺産に登録されたことに興味を持ち、古墳群がある大阪府や百舌鳥・古市古墳群について調べ、次のようにまとめました。これに関連して、問1～問3に答えなさい。(16点)

百舌鳥・古市古墳群が世界文化遺産に登録されたことで、日本の世界遺産は、自然遺産・文化遺産をふくめて23件となった。世界遺産とは、1972年のI総会で採択された世界遺産条約に基づいて登録された、人類が共有すべき価値のある文化的、自然的遺産のことをいう。2018年時点で、世界で最も世界遺産の登録数が多い国はイタリアで、その数は50か所以上あり、中国、スペイン、ドイツなどがそれに続く。

百舌鳥古墳がある大阪は、かつては摂津や難波とよばれた地域で、古墳時代から政治の中心地の一つで、①中世から近世にかけても歴史の中で大きな役割をになってきた。近代になってからは商業や工業が発達し、2018年時点では、日本で3番目に人口が多い都道府県である。また、地方財政の面では、②東京都に次いで2番目に財政規模が大きい都道府県になっている。

問1 まとめ文中のIには、国際連合の専門機関の一つがあてはまります。(世界の文化や教育などに取り組むことを目的としている国際連合の専門機関)を何といいますか。その名称をカタカナで書きなさい。(2点)

ユネスコ

問2 まとめ文中の下線部①に関連して、次の(1)～(3)の問いに答えなさい。

(1) Kさんは、中世から近世の大阪に関連したできごとを中心に調べ、次の年表にまとめました。(年表中のW～Zの時期や年におこったできごと)としてあてはまるものを、下のア～エの中から一つずつ選び、その記号を書きなさい。(3点)

西暦(年)	できごと
1392	・足利義満が南北朝を統一する……………W イ
1580	・大阪にあった石山本願寺が焼失する……………W
1583	・X I
1684	・竹本義太夫が大阪道頓堀に竹本座を創設する……………Y ウ
1724	・大阪の町人が出資した懷徳堂が開校する……………Y
1837	・Z ア
1838	・緒方洪庵が大阪に適塾を開き、福沢諭吉など多くの人材を輩出する

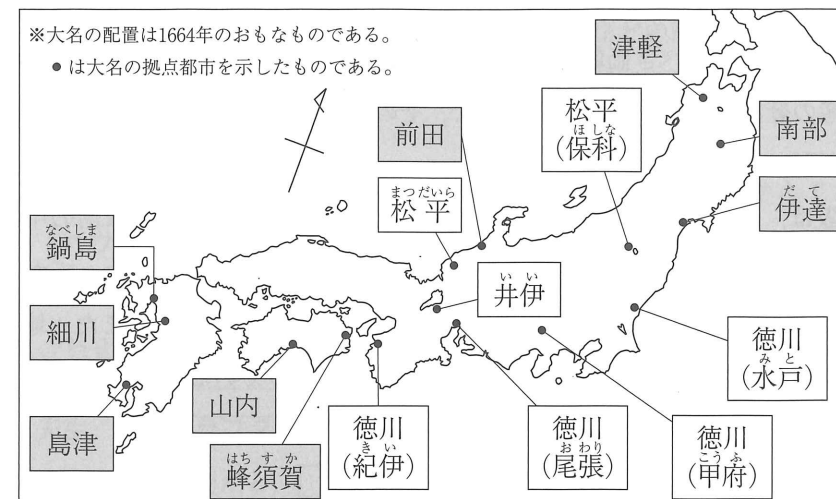
- ア 大塩平八郎が、ききんに苦しむ人々を救おうと、門人とともに大商人をおそった。
- イ 勘合貿易や南蛮貿易の拠点となった堺が、自治都市として繁栄した。
- ウ 近松門左衛門が、人形浄瑠璃の題材として、実際におこったできごとを基に脚本を書いた。
- エ 羽柴秀吉(後の豊臣秀吉)が、大阪城の築城を始めた。

大阪城は
石山本願寺の跡地につくられた。

(次のページにも問題が続きます。)

(2) 次の地図は、近世における 17 世紀後半の主な大名の配置などを示したもので、地図中の は、外様大名の配置を示しています。外様大名は 1600 年におこった関ヶ原の戦いのあとに徳川氏にしたがった大名のことですが、（外様大名の配置の特色）、「江戸」という語を用いて、地図から読みとって書きなさい。（5 点）

地図



王道パターン!!
江戸から
遠いところ
に配置されている。

(3) 右の資料は、江戸時代、北陸や西日本の諸藩や旗本などによって大阪に運ばれた（年貢米や特産品を、保管したり取り引きしたりするための建物）を示しています。このような建物のことを何といいますか。その名称を書きなさい。（3 点）

資料



蔵屋敷

問3 まとめ文中の下線部②に関連して、次の文章は、東京都が位置する関東地方の農業についてまとめたものです。文章中の にあてはまる語を書きなさい。（3 点）

千葉県や埼玉県などの東京都周辺の各県では、野菜や生花などを生産し、大消費地である東京に出荷する 農業が行われている。

近郊(農業)
漢字注意!!

(以上で問題は終わりです。)